

M1 - T.D. APS – CCS et Vérification

EXERCICE 1 Que peut-on trouver dans la variable x après l'exécution du programme suivant ?
 $x := 10; ((x := x \times 2; x := x - 11; x := x + 2) \parallel x := x - 5)$ \diamond

EXERCICE 2 Parmi les expressions suivantes, lesquelles sont des expressions CCS syntaxiquement correctes ? Justifiez les réponses. A, B sont des noms de processus et a, b des noms de canaux.

1. $a.b.A + B$
2. $(a.NIL + \bar{a}A) \setminus \{a, b\}$
3. $(a.NIL \parallel \bar{a}A) \setminus \{a, \tau\}$
4. $a.A + [a/b]$
5. $a.\tau.\tau.A + NIL$
6. $(a.B + b.B)[a/b, b/a]$
7. $(a.B + \tau.B)[a/\tau, b/a]$
8. $(a.NIL + \bar{a}A) \parallel B$
9. $(a.NIL + \bar{a}A).B$
10. $(a.NIL + \bar{a}A) + B$
11. $(Nil \parallel Nil) + Nil$ \diamond

EXERCICE 3 On considère le système de transition ST dessiné ci-dessous.

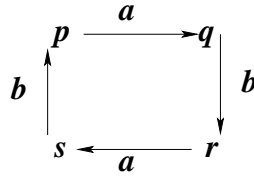


Figure 1

Décrivez-le comme un triplet $(Proc, Act, T)$. \diamond

EXERCICE 4 On considère le processus CCS (machine à café simple) défini par

$$M \stackrel{\text{def}}{=} e.c.\bar{p}.M$$

Définissez un processus (machine à café voleuse) qui décrive une machine à café qui peut

- soit se comporter comme M
- soit prendre la pièce et ne rien donner \diamond

EXERCICE 5 Soit $(Proc, Act, T)$ un ST avec $Proc$ et Act finis.

1. Montrez que T est aussi fini.
2. Dessinez un exemple de ST à 4 états et 2 actions.
3. Ecrivez la définition de votre ST comme programme CCS séquentiel.
4. Montrez que tout ST fini peut être décrit comme un programme CCS séquentiel. \diamond

EXERCICE 6 Soient $A = a.Nil + b.Nil$ et $B = \bar{a}.B + b.B$. Soient $P \stackrel{\text{def}}{=} A \parallel B$ et $Q \stackrel{\text{def}}{=} (A \parallel B) \setminus \{a\}$.

1. Donnez toutes les transitions de la forme \xrightarrow{x} avec $x \in \{a, b, \bar{a}, \tau\}$ de P (resp. Q) en les justifiant par la sémantique SOS de CCS.
2. Dessinez un ST pour P (resp. Q).
3. P (resp. Q) peut-il bloquer ?
4. Mêmes questions en remplaçant B par $B' \stackrel{\text{def}}{=} \bar{a}.b.B'$. \diamond

EXERCICE 7 Soit $A \stackrel{\text{def}}{=} b.a.B$. Vérifiez que les dérivations suivantes sont correctes :

- $(A \parallel \bar{b}.a.B) + (\bar{b}.A)[a/b] \xrightarrow{\bar{b}} (A \parallel a.B)$

T.S.V.P.

- $(A \parallel \bar{b}.a.B) + (\bar{b}.A)[a/b] \xrightarrow{\bar{a}} A[a/b]$
- $(A \parallel \bar{b}.Nil) \setminus \{b\} \xrightarrow{\tau} (a.B \parallel Nil) \setminus \{b\}$ ◇

EXERCICE 8 On considère le processus CCS S défini par les équations :

$$\begin{aligned}
 M &\stackrel{\text{def}}{=} e.\bar{c}.M \\
 I &\stackrel{\text{def}}{=} ex.\bar{e}.c.I \\
 S &\stackrel{\text{def}}{=} (M \parallel I) \setminus \{e, c\}
 \end{aligned}$$

Dessinez le système de transition correspondant. ◇

EXERCICE 9 1. Dessinez un ST pour le processus A défini par $A \stackrel{\text{def}}{=} (a.A) \setminus \{b\}$. le ST obtenu doit avoir une infinité d'états.

2. Trouvez un processus CCS qui peut être décrit par un ST fini, et qui a le même comportement (intuitivement) que A . ◇

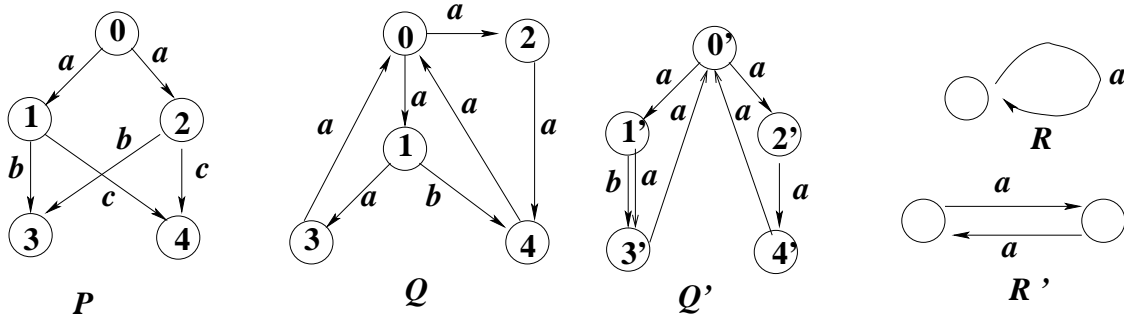


Figure 2

EXERCICE 10 On considère le ST P de la figure 2. Dans quels états de P les formules suivantes de HML sont-elles satisfaites ?

1. $[a] ([a]t \vee [a]ff)$
2. $[a] ([b]t \wedge [c]t)$
3. $[a] ([a]ff \wedge [c]t)$ ◇

EXERCICE 11 On considère le ST Q de la figure 2. Dans quels états de Q les formules suivantes de HML sont-elles satisfaites ?

1. $\langle a \rangle t$
2. $\langle b \rangle t$
3. $[a]ff$
4. $[b]ff$
5. $[a]\langle b \rangle t$
6. $\langle a \rangle \langle b \rangle t$
7. $\langle b \rangle \langle b \rangle t$
8. $[a]\langle a \rangle [a][b]ff$
9. $\langle a \rangle (\langle a \rangle t \wedge \langle b \rangle t)$
10. $[a] (\langle a \rangle t \vee \langle b \rangle t)$
11. $\langle a \rangle ([b][a]ff \wedge \langle b \rangle t)$
12. $\langle a \rangle ([a](\langle a \rangle t \wedge [b]ff) \wedge \langle b \rangle ff)$
13. $[a][a][b]ff$ ◇

EXERCICE 12 On considère le ST R de la figure 2. Les formules suivantes de HML sont-elles satisfaites par R ?

1. $\langle a \rangle t$
2. $[a] ff$
3. $[a] (\langle a \rangle t \wedge [b] ff)$
4. $[a] (\langle b \rangle t \vee [a] ff)$

Est ce que R et R' satisfont les mêmes formules HML ? ◇

EXERCICE 13 Pour chacune de formules HML ci-dessous donnez si possible un ST qui la satisfasse.

1. $\langle a \rangle t \wedge [a] ff$ (soit F_1 cette formule)
2. $\langle a \rangle [b] (\langle a \rangle t \wedge [a] ff)$ (soit F_2 cette formule $F_2 = \langle a \rangle [b] F_1$)
3. $F_2 \wedge \bigwedge_{a \in Act} [a] \langle b \rangle t$
4. $F_2 \wedge \bigwedge_{a \in Act} [a] \bigvee_{b \in Act} \langle b \rangle t$ ◇

EXERCICE 14 1. Interprétez la formule :

$$\bigvee_{a \in Act} \langle a \rangle t \wedge \bigwedge_{a \in Act} [a] (\bigvee_{a \in Act} \langle a \rangle t \wedge \bigwedge_{a \in Act} [a] (\bigvee_{a \in Act} \langle a \rangle t \wedge \bigwedge_{a \in Act \setminus \{a\}} [a] ff))$$

2. Donnez un ST qui la satisfasse.

3. Donnez un ST ayant le plus petit nombre d'états possible qui la satisfasse. ◇

EXERCICE 15 Trouvez un ST qui satisfasse les trois propriétés suivantes.

1. $\langle a \rangle (\langle b \rangle \langle c \rangle t \wedge \langle c \rangle t)$
2. $\langle a \rangle \langle b \rangle ([a] ff \wedge [b] ff \wedge [c] ff)$
3. $[a] \langle b \rangle ([c] ff \wedge \langle a \rangle t)$ ◇

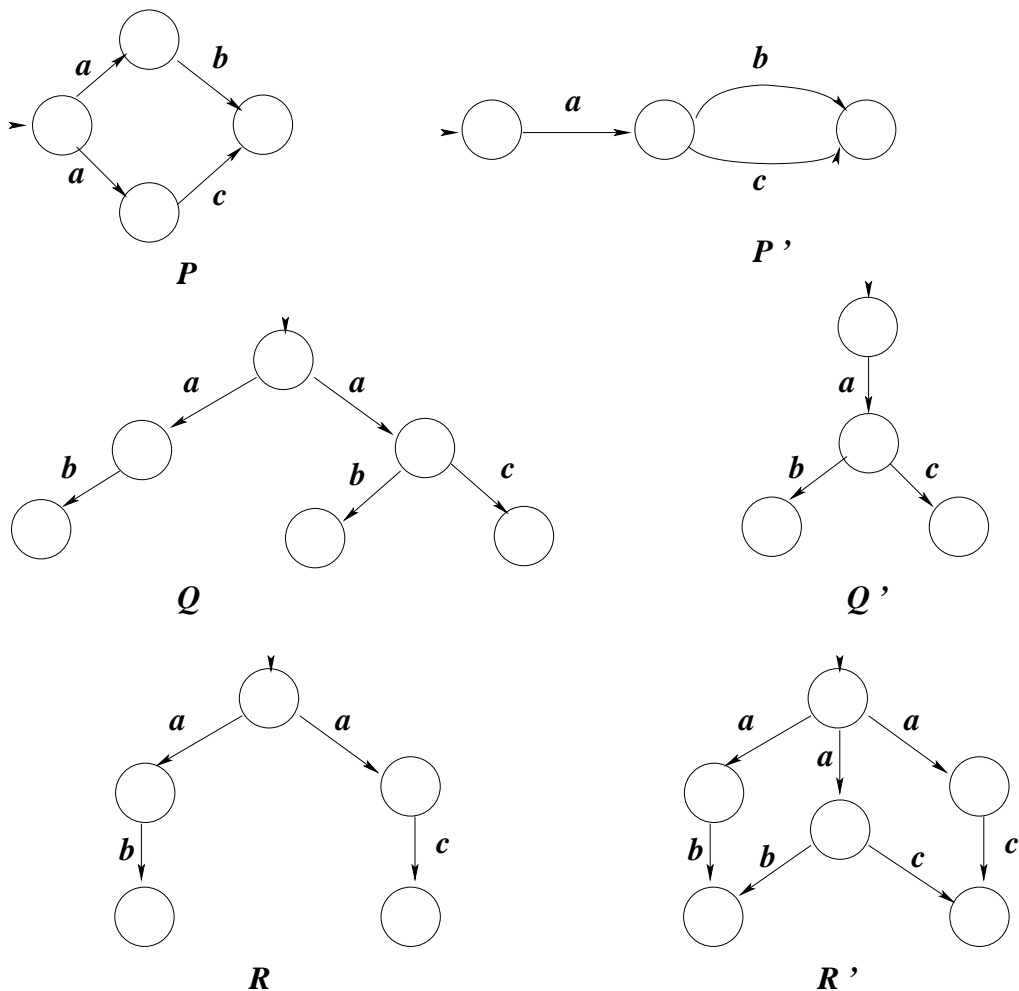


Figure 3

EXERCICE 16 Donnez une formule HML qui distingue les ST P et P' de la figure 3 en étant satisfaite par P et pas par P' . \diamond

EXERCICE 17 Donnez une formule HML qui distingue les ST Q et Q' de la figure 3 en étant satisfaite par Q' et pas par Q . \diamond

EXERCICE 18 Donnez une formule HML qui distingue les ST R et R' de la figure 3 en étant satisfaite par R' et pas par R . \diamond

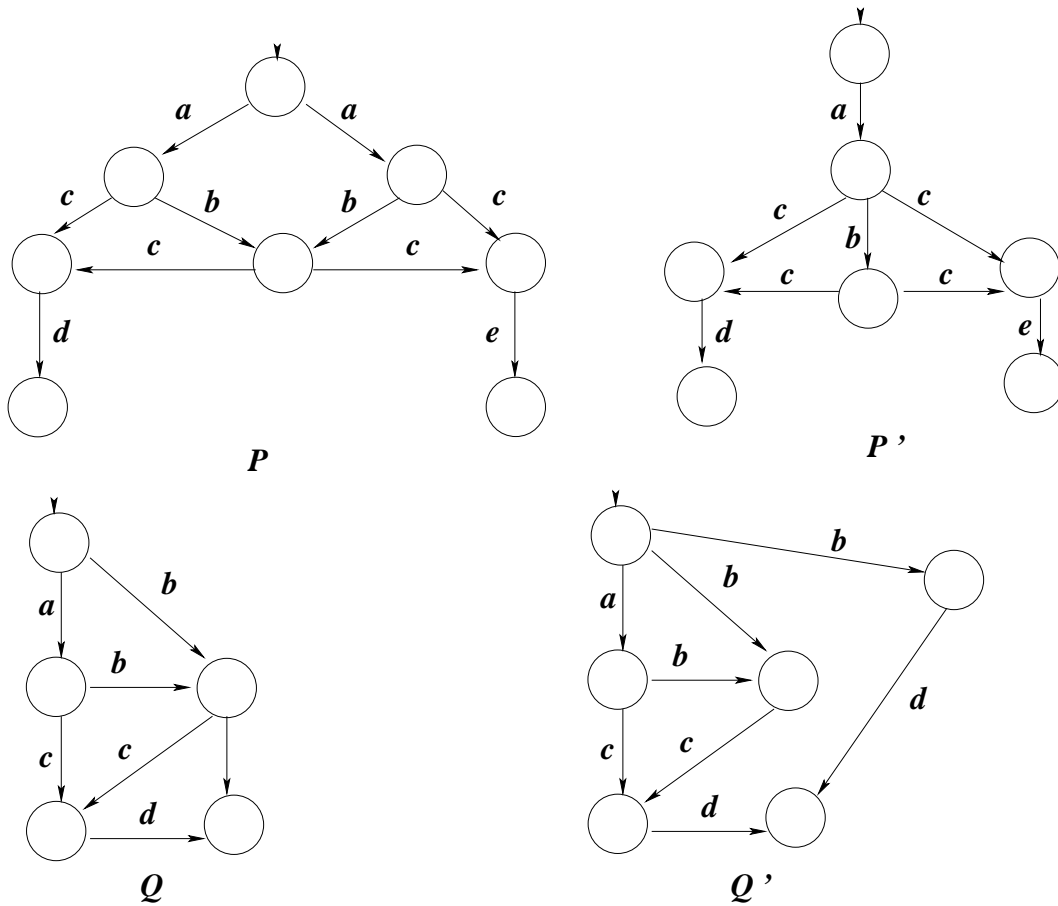


Figure 4

EXERCICE 19 Donnez une formule HML qui distingue les ST P et P' de la figure 4. \diamond

EXERCICE 20 Donnez une formule HML qui distingue les ST Q et Q' de la figure 4. \diamond

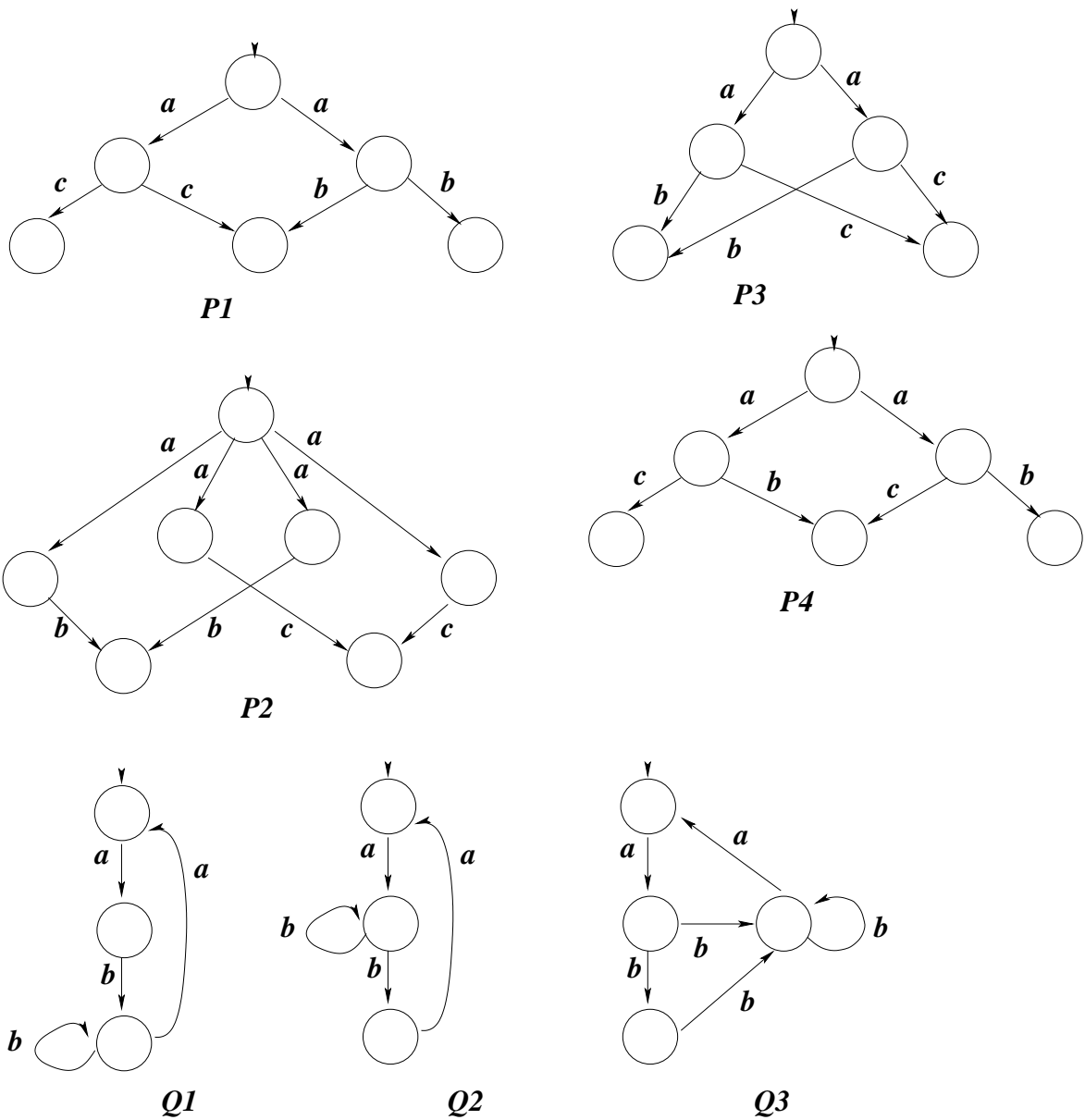


Figure 5

EXERCICE 21 Est-il possible de donner des formules HML qui distinguent les ST $P1$, $P2$, $P3$ et $P4$ de la figure 5 ? \diamond

EXERCICE 22 Donnez trois formules HML qui distinguent les ST $Q1$, $Q2$ et $Q3$ de la figure 5 deux à deux. \diamond

EXERCICE 23 La profondeur d'une formule HML est définie par

(B) $prof(\#) = prof(\#) = 0$

(I) $prof(F \wedge G) = prof(F \vee G) = \max\{prof(F), prof(G)\}$

(I) $prof([a]F) = prof(\langle a \rangle F) = prof(F) + 1$

Trouvez deux processus CCS qui ne sont pas distinguables par une formule de profondeur 1 mais qui sont distinguables par une formule de profondeur 2 ou plus. \diamond

EXERCICE 24 Donnez des formules HTML qui expriment les propriétés suivantes :

1. On peut faire un a suivi par un b puis par un c .
2. Si on peut faire un a , il ne peut être suivi ni d'un b ni d'un c .
3. Si on peut faire un a et si un b est aussi possible, alors le a ne peut pas être suivi d'un b .
4. On peut faire un a ou un b , mais après avoir fait le a on ne peut plus faire de b . ◇

Bisimulations

EXERCICE 25 1. Les processus M_s et M_n de la figure 6 sont-ils fortement bisimilaires ?

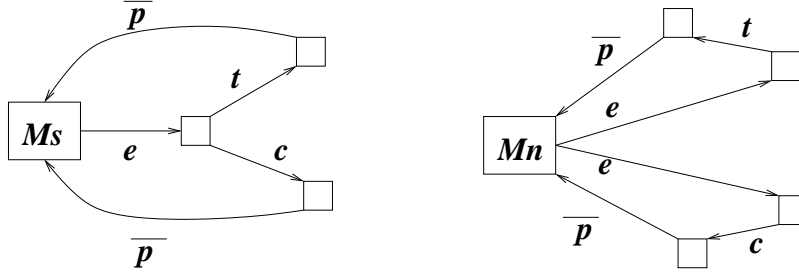


Figure 6

2. Les processus R et R' de la figure 2 sont-ils fortement bisimilaires ?
3. Montrez que les processus P_1 et P_2 , (resp. P_3 et P_4) de la figure 5 sont fortement bisimilaires. ◇

EXERCICE 26 1. Montrez que $\sim = \cup \{R \mid R \text{ est une bisimulation forte} \}$ est une relation d'équivalence (réflexive, symétrique et transitive).

2. Montrez que \sim est la plus grande bisimulation forte. ◇

EXERCICE 27 1. On considère les processus P et Q définis par :

$$P \xrightarrow{a} 0, P \xrightarrow{a} 1 \text{ et } 1 \xrightarrow{b} 2$$

$$Q \xrightarrow{a} 3, 3 \xrightarrow{b} 4$$

P et Q sont-ils fortement bisimilaires ?

2. Une relation binaire $R \subseteq Proc \times Proc$ est une simulation ssi pour tous $(s, t) \in R$ et pour tout $a \in Act$:

- si $s \xrightarrow{a} s'$ alors $t \xrightarrow{a} t'$ pour un t' tel que $(s', t') \in R$

P est simulé par Q (notation $P < Q$) ssi il existe une simulation R telle que $(P, Q) \in R$.

Montrez que $P \sim Q$ implique $P < Q$ et $Q < P$. La réciproque est-elle vraie ? ◇

EXERCICE 28 Le but de cet exercice est de montrer que sur les processus qui ne sont pas à branchement fini, $\sim \neq \sim_{\omega}$. Soit $P = \sum_{n \in \mathbb{N}} a^n \cdot NIL$ alors montrer que $P \sim_{\omega} \sum_{n \in \mathbb{N}} a^n \cdot NIL + a^\omega$ mais $P \not\sim \sum_{n \in \mathbb{N}} a^n \cdot NIL + a^\omega$. ◇

EXERCICE 29 1. Les processus $\tau \cdot NIL + \tau \cdot a \cdot NIL$ et $a \cdot NIL$ sont-ils fortement bisimilaires ? faiblement bisimilaire ?

2. Montrer que $a \cdot NIL + b \cdot NIL \not\approx a \cdot NIL + \tau \cdot b \cdot NIL \not\approx \tau \cdot a \cdot NIL + \tau \cdot b \cdot NIL \not\approx a \cdot NIL + b \cdot NIL$.

3. Montrer que $a \cdot NIL \approx \tau \cdot a \cdot NIL \approx a \cdot NIL + \tau \cdot a \cdot NIL$.

4. On abrège $a \cdot NIL$ en a . Montrer que $a \cdot (b + \tau \cdot c) \approx a \cdot (b + \tau \cdot c) + a \cdot c$ ◇

EXERCICE 30 Les processus Q et Q' de la figure 2 sont-ils fortement bisimilaires ? ◇

EXERCICE 31 On considère les processus P et Q définis par :

$$P = a \cdot P_1 \quad P_1 = b \cdot P + c \cdot P$$

$$Q = a \cdot Q_1 \quad Q_1 = b \cdot Q_2 + c \cdot Q \quad Q_2 = a \cdot Q_3 \quad Q_3 = b \cdot Q + c \cdot Q_2$$

Montrer qu'ils sont fortement bisimilaires. ◇

EXERCICE 32 On considère les processus de la figure 7. Est-ce que $S \sim T$? $S \sim U$? $S \sim V$?

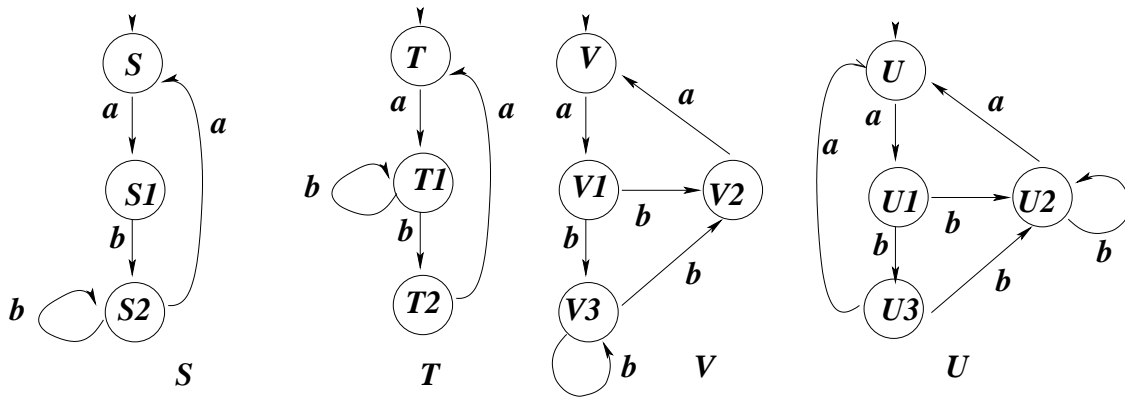


Figure 7

Donner une stratégie universelle pour l'attaquant (si non bisimilaires) ; sinon (bisimilaires) donner soit une stratégie universelle pour le défenseur, soit définir explicitement la bisimulation. \diamond

1. $x = 1$ ou $x = 6$, 4 exécutions possibles.
 2. toutes correctes sauf
 3. faux on n'utilise pas τ ds une restriction
 4. faux, on ne renomme que des expressions correctes
 7. faux, τ doit être renommé en τ
 9. faux, on ne peut préfixer que par des actions ($P; Q$ interdit en CCS)
3. $Proc = \{p, q, r, s\}$ $Act = \{a, b\}$ $T = \{(p, a, q), (r, a, s), (q, b, r), (s, b, p)\}$
4. $M' \stackrel{\text{def}}{=} e.c.\bar{p}.M' + e.M'$
ou encore (si on suppose un CCS asynchrone où la transition *fail* peut se déclencher avant la communication sur le canal *c*,
 $M' \stackrel{\text{def}}{=} e.(c.\bar{p}.M' + M' + \text{fail}.Nil) + \text{fail}.Nil.$
ou encore $M'' \stackrel{\text{def}}{=} M + e.M''$
Remarquer que M' et M'' ont des comportements différents (si M'' décide de devenir honnête elle le reste, alors que M' peut à chaque étape recommencer à voler.
5. 1. Il y a au maximum $2^{|Proc| \times |Act|}$ éléments dans T .
2. Pour le processus de la figure 1, on a :

$$p \stackrel{\text{def}}{=} a.q, q \stackrel{\text{def}}{=} b.r, r \stackrel{\text{def}}{=} a.s, s \stackrel{\text{def}}{=} b.p$$

3. Un autre exemple

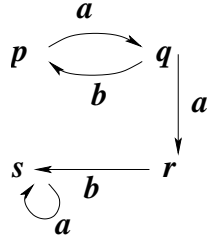


Figure 8

et ses équations CCS :

$$p \stackrel{\text{def}}{=} a.q, q \stackrel{\text{def}}{=} b.p + a.r, r \stackrel{\text{def}}{=} b.s, s \stackrel{\text{def}}{=} a.s$$

4. Pour chaque $p \in Proc$ on ajoute la définition d'un nouveau processus p :
- si $p \not\rightarrow$ on pose $p \stackrel{\text{def}}{=} Nil$, sinon
 - si $p \xrightarrow{a_1} p_1, p \xrightarrow{a_2} p_2, \dots, p \xrightarrow{a_n} p_n$, on pose $p \stackrel{\text{def}}{=} a_1.p_1 + a_2.p_2 + \dots + a_n.p_n$
6. 1. $P \xrightarrow{a} Nil \parallel B$ (ACT et COM1), $P \xrightarrow{b} Nil \parallel B$ (ACT et COM1), $P \xrightarrow{\bar{a}} P$ (ACT et COM2), $P \xrightarrow{b} P$ (ACT et COM2), $P \xrightarrow{\tau} Nil \parallel B$ (ACT, ACT et COM3)
Pour $Q \stackrel{\text{def}}{=} (A \parallel B) \setminus \{a\}$, on n'a plus que 3 transitions (celles sans a, \bar{a})

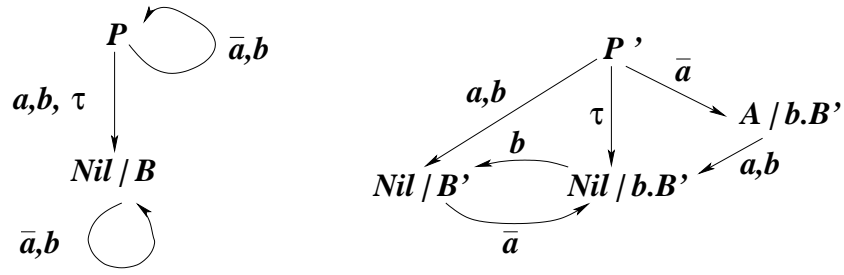


Figure 9

pour Q supprimer les transitions avec a, \bar{a} et rajouter la restriction par a .

3. ni P ni Q ne bloquent.

4. Posons $P' \stackrel{\text{def}}{=} A \parallel B'$ et $Q' \stackrel{\text{def}}{=} (A \parallel B') \setminus \{a\}$.

$P' \xrightarrow{a} Nil \parallel B'$ (ACT et COM1), $P' \xrightarrow{b} Nil \parallel B'$ (ACT et COM1), $P' \xrightarrow{\bar{a}} A \parallel b.B'$ (ACT et COM2), $P' \xrightarrow{\tau} Nil \parallel b.B'$ (ACT, ACT et COM3)

Pour $Q' \stackrel{\text{def}}{=} (A \parallel B') \setminus \{a\}$, on n'a plus que 2 transitions (celles sans a, \bar{a})

P' ne bloque jamais, par contre Q' peut arriver a $Nil \parallel B'$ qui est bloquant.

7.

- $(A \parallel \bar{b}.a.B) + (\bar{b}.A)[a/b] \xrightarrow{\bar{b}} (A \parallel a.B)$
par ACT $\bar{b}.a.B \xrightarrow{\bar{b}} a.B$
par COM2 $A \parallel \bar{b}.a.B \xrightarrow{\bar{b}} A \parallel a.B$
par SUM1 $(A \parallel \bar{b}.a.B) + (\bar{b}.A)[a/b] \xrightarrow{\bar{b}} (A \parallel a.B)$
- $(A \parallel \bar{b}.a.B) + (\bar{b}.A)[a/b] \xrightarrow{\bar{a}} A[a/b]$
par ACT $\bar{b}.A \xrightarrow{\bar{b}} A$
par REL $\bar{b}.A[a/b] \xrightarrow{\bar{a}} A[a/b]$
par SUM2 $(A \parallel \bar{b}.a.B) + (\bar{b}.A)[a/b] \xrightarrow{\bar{a}} A[a/b]$
- $(A \parallel \bar{b}.Nil) \setminus \{b\} \xrightarrow{\tau} (a.B \parallel Nil) \setminus \{b\}$
par ACT $\bar{b}.Nil \xrightarrow{\bar{b}} Nil$ sera utilisé ensuite avec COM3
par ACT $b.a.B \xrightarrow{b} a.B$
par CON puisque $A \stackrel{\text{def}}{=} b.a.B$, et $b.a.B \xrightarrow{b} a.B$, $A \xrightarrow{b} a.B$
par COM3 $(A \parallel \bar{b}.Nil) \xrightarrow{\tau} (a.B \parallel Nil)$
par RES puisque $\{\tau, \bar{\tau}\} \not\subseteq \{b\}$, $(A \parallel \bar{b}.Nil) \setminus \{b\} \xrightarrow{\tau} (a.B \parallel Nil) \setminus \{b\}$

8.

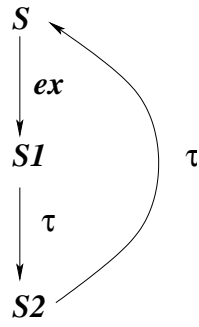


Figure 10

où $S1 = (M \parallel \bar{e}.c.I) \setminus \{e, c\}$
 et $S2 = (\bar{c}.M \parallel c.I) \setminus \{e, c\}$

9. 1. ST pour $A \stackrel{\text{def}}{=} (a.A) \setminus \{b\}$.

$A \xrightarrow{a} A \setminus \{b\} \xrightarrow{a} (A \setminus \{b\}) \setminus \{b\} \xrightarrow{a} ((A \setminus \{b\}) \setminus \{b\}) \setminus \{b\} \xrightarrow{a} \dots$

2. On peut définir $B \stackrel{\text{def}}{=} a.B$ qui correspond à un ST fini avec le même comportement que A .

10. La formule $[a]\#$ est toujours vraie, pour tout a et tout état. Elle est donc équivalente à $\#$; les 2 premières formules sont donc vraies dans tous les états du ST.

Pour la 3eme formule, $[a]ff$ exprime qu'on ne peut pas faire de a -transition elle est vraie dans les états 1,2,3,4 ; la formule $[c]\#$ est toujours vraie, donc la formule $([a]ff \wedge [c]\#)$ est vraie dans les états 1,2,3,4 ; finalement, $[a]([a]ff \wedge [c]\#)$ est vraie dans tous les états du ST. Elle exprime qu'on ne peut pas faire 2 a -transitions consécutives et est équivalente à $[a][a]ff$.

11.

1. $\langle a \rangle \#$ vraie dans 0,1,2,3,4.

Autre manière de dire la même chose $\llbracket \langle a \rangle \# \rrbracket = \{0, 1, 2, 3, 4\}$

2. $\langle b \rangle \#$ vraie dans 1

3. $[a]ff$ toujours fausse

4. $[b]ff$ vraie dans 0,2,3,4

5. $[a]\langle b \rangle \#$ toujours fausse ($\langle b \rangle \#$ vraie dans 1)

6. $\langle a \rangle \langle b \rangle \#$ vraie dans 0

7. $\langle b \rangle \langle b \rangle \#$ toujours fausse

8. $[a]\langle a \rangle [a][b]ff$ vraie ds 0,3,4 ;

$[b]ff$ vraie dans 0,2,3,4 ; $[a][b]ff$ vraie dans les états dont tous les A -successeurs sont dans 0,2,3,4 et dc $[a][b]ff$ vraie dans 1,2,3,4 : $\langle a \rangle [a][b]ff$ vraie ds 0,1,2.

9. $\langle a \rangle (\langle a \rangle \wedge \langle b \rangle \#)$ vraie ds 0 ; $\langle a \rangle \#$ vraie dans 0,1,2,3,4 et $\langle b \rangle \#$ vraie dans 1 ; $(\langle a \rangle \wedge \langle b \rangle \#)$ vraie ds 1.

10. $[a] (\langle a \rangle \# \vee \langle b \rangle \#)$ vraie toujours.

$\langle a \rangle \#$ toujours vraie et $\langle b \rangle \#$ vraie ds 1 ; $(\langle a \rangle \# \vee \langle b \rangle \#)$ toujours vraie.

11. $\langle a \rangle ([b][a]ff \wedge \langle b \rangle \#)$ toujours fausse.

$[a]ff$ toujours faux et $\langle b \rangle \#$ vraie ds 1 ; $[b][a]ff$ vrai ds 0, 2, 3, 4 ; $([b][a]ff \wedge \langle b \rangle \#)$ toujours faux.

12. $\langle a \rangle ([a](\langle a \rangle \# \wedge [b].ff) \wedge \langle b \rangle .ff)$ toujours faux.
 $\langle a \rangle \#$ toujours vrai ; $[b].ff$ vrai ds 0, 2, 3, 4 ; $\langle b \rangle .ff$ toujours faux ; $\langle a \rangle \# \wedge [b].ff$ vrai ds 0, 2, 3, 4 ; $[a](\langle a \rangle \# \wedge [b].ff)$ vrai ds 1, 2, 3, 4 ; $([a](\langle a \rangle \# \wedge [b].ff) \wedge \langle b \rangle .ff)$ toujours faux.
13. $[a][a][b].ff$ vrai ds 0, 1, 2
 $[a][b].ff$ vrai ds 1, 2, 3, 4 et dc on doit partir de 0, 1, 2 pr que ts les a -successeurs soient ds 1, 2, 3, 4.

12.

1. $\langle a \rangle \#$ oui
 2. $[a].ff$ non
 3. $[a](\langle a \rangle \# \wedge [b].ff)$ oui (les 2 ss-formules sont vraies).
 4. $[a](\langle b \rangle \# \vee [a].ff)$ non (les 2 ss-formules sont fausses).
- OUI (ST R et R' sont bisimilaires).

13.

1. $\langle a \rangle \# \wedge [a].ff$ (soit F_1 cette formule) impossible la première partie exprime que il y a une a -transition et la seconde partie interdit qu'il y ait une a -transition.
2. $\langle a \rangle [b](\langle a \rangle \# \wedge [a].ff)$ (soit F_2 cette formule $F_2 = \langle a \rangle [b]F_1$) Il doit y avoir une a -transition et après cette transition $[b](\langle a \rangle \# \wedge [a].ff)$ doit être vraie, i.e. pas de b -transition: il suffit de prendre le ST réduit à $0 \xrightarrow{a} 1$
3. $F_2 \wedge \bigwedge_{a \in Act} [a]\langle b \rangle \#$
 $\bigwedge_{a \in Act} [a]\langle b \rangle \#$ exige qu'après tout état atteint en une seule transition depuis l'état initial, on puisse faire une b -transition ; cela contredit F_2 qui dit que il y a une a -transition après qui il n'y a pas de b -transition ; pas de ST qui satisfasse cette formule.
4. $\bigwedge_{a \in Act} [a] \bigvee_{b \in Act} \langle b \rangle \#$ exige qu'après tout état atteint en une seule transition depuis l'état initial, on puisse faire une b -transition pour un b dans Act ; F_2 dit que il y a une a -transition après qui il n'y a pas de b -transition : il suffit de faire une a -transition depuis l'état initial et ensuite une transition autre que b . $0 \xrightarrow{a} 1 \xrightarrow{c} 2$.

14. 1. $\bigvee_{a \in Act} \langle a \rangle \# \wedge \bigwedge_{a \in Act} [a](\bigvee_{a \in Act} \langle a \rangle \# \wedge \bigwedge_{a \in Act} [a](\bigvee_{a \in Act} \langle a \rangle \# \wedge \bigwedge_{a \in Act \setminus \{a\}} [a].ff))$
On peut faire 3 transitions consécutives, et la troisième transition doit être une a -transition.

2. $0 \xrightarrow{c} 1 \xrightarrow{b} 2 \xrightarrow{a} 3$
3. $0 \xrightarrow{a} 0$

- 15.** 1. on doit pouvoir faire abc et ac
2. il y a un ab après qui on ne peut faire ni a ni b ni c
3. après tout a on peut faire un b après lequel pas de c mais un a doit être possible
On ne peut pas fusionner les b car après les b on demande des choses contradictoires.
(VOIR CORRIGE)

16. $\langle a \rangle [b].ff$

17. $[a]\langle c \rangle \#$

18. $\langle a \rangle (\langle b \rangle \# \wedge \langle c \rangle \#)$

19. $[a]\langle c\rangle\langle e\rangle t$ est satisfaite par P' et pas par P .

20. $\langle b\rangle(\langle c\rangle t \wedge \langle d\rangle t)$ est satisfaite par Q et pas par Q' .

21. On ne peut pas distinguer $P1, P2$ (bisimilaires) ni $P3$ et $P4$ (bisimilaires).

$\langle a\rangle(\langle b\rangle t \wedge \langle c\rangle t)$ est satisfaite par $P3$ et $P4$, mais pas par $P1$ ni $P2$.

22.

$\langle a\rangle\langle b\rangle[b]ff$ est satisfaite par $Q2$ et pas par $Q1$.

$[a][b](\langle a\rangle t \wedge \langle b\rangle t)$ est satisfaite par $Q1$ et pas par $Q3$.

$\langle a\rangle\langle b\rangle(\langle a\rangle t \wedge \langle b\rangle t)$ est satisfaite par $Q3$ et pas par $Q2$

23. $P = a.P$ et $Q = a.Q + a.a.NIL$. les formules de profondeur 1 sont $\langle a\rangle t$ ou $[a]t$ ou $\langle a\rangle ff$ ou $[a][a]ff$: et elles sont satisfaites (ou non satisfaites) en même temps par P et Q . Une formule de profondeur 2 qui distingue P et Q est : $F = \langle a\rangle\langle a\rangle[a]ff$ qui est satisfaite par Q mais pas par P (puisque P ne s'arrête jamais).

24.

1. On peut faire un a suivi par un b puis par un c .

$\langle a\rangle\langle b\rangle\langle c\rangle t$

2. Si on peut faire un a , il ne peut être suivi ni d'un b ni d'un c .

$[a]([b]ff \wedge [c]ff)$

3. Si on peut faire un a et si un b est aussi possible, alors le a ne peut pas être suivi d'un b .

$\langle a\rangle[b]ff \wedge [b]ff$

4. On peut faire un a ou un b , mais après avoir fait le a on ne peut plus faire de b .

$\langle a\rangle t \wedge \langle b\rangle t \wedge [a][b]ff$

25. 1. Non, l'attaquant fait le e de Ms , le défenseur doit choisir l'un des e de Mn , et s'il choisit celui qui mène à c , l'attaquant fait t , s'il choisit celui qui mène à t , l'attaquant fait c , d'où blocage et attaquant gagne.

2. Oui : jeu infini donc le défenseur gagne.

3. $P3$ et $P4$: quel que soit le a choisi par l'attaquant, le défenseur peut choisir n'importe quel a , et il pourra toujours répliquer à l'action suivante.

$P1$ et $P2$: selon le a choisi par l'attaquant, le défenseur choisit un a après qui il pourra faire un b (s'il y a b après celui choisi par l'attaquant) ou un c sinon.

26. 1. réflexive, symétrique évident. Seule la transitivité doit être vérifiée (car l'union de relations d'équivalences n'est pas en général une relation d'équivalence). C'est vrai, car : si R_1, R_2 sont des bisimulations, alors $R_1 \circ R_2$ est aussi une bisimulation. Si donc sR_1s_1 et $s_1R_2s_2$, alors $sR_1 \circ R_2s_2$, et s et s_2 sont aussi dans \sim .

2. résulte de ce que 1) \sim est une bisimulation, et 2) \sim contient toutes les bisimulations.

27. 2. Non. Soit $R = \{(P, Q), (1, 3), (2, 4)\}$. C'est une simulation, $P < Q$ et $Q < P$, mais $P \not\sim Q$: R n'est pas une bisimulation, car $P \xrightarrow{a} 0$ et il n'y a pas d'état de Q en relation avec 0 dans R (intuition).

Preuve : il ne peut pas y avoir de bisimulation entre P et Q en effet

- d'une part, comme $P \xrightarrow{a} 0$, 0 doit être bisimilaire à 3 qui est le seul état tel que $Q \xrightarrow{a} \dots$
- d'autre part, comme $3 \xrightarrow{b} 4$, si 0 est bisimilaire à 3 on doit avoir une transition $0 \xrightarrow{b} \dots$ qui n'existe pas : contradiction.

28. A FAIRE

29. 1. $\tau.NIL + \tau.a.NIL$ et $a.NIL$ sont-ils fortement bisimilaires ? NON.

faiblement bisimilaire ? NON $\tau.NIL + \tau.a.NIL \xrightarrow{\tau} NIL$ et pas $a.NIL$.

2. $a.NIL + \tau.b.NIL \xrightarrow{\tau} b.NIL$ et pas $a.NIL + b.NIL$ $\tau.a.NIL + \tau.b.NIL \xrightarrow{\tau} a.NIL$ et pas $a.NIL + \tau.b.NIL$. etc.

3. remarquer que \implies permet 0 actions.

30. Oui, la bisimulation est : $\sim = \{(0, 0'), (1, 1'), (2, 2'), (3, 3'), (4, 3'), (4, 4')\}$.
Se vérifie facilement en regardant toutes les transitions.

31. Oui, la bisimulation est : $\sim = \{(P, Q), (P_1, Q_1), (P, Q_2), (P_1, Q_3)\}$. Se vérifie facilement en regardant toutes les transitions.

32. Soit A l'attaquant et D le défenseur.

1. Est-ce que $S \sim T$? Non. Stratégie gagnante universelle pour A : A choisit S et va en $s1$; D ne peut que aller en $t1$. A choisit $s1$ et va en $s2$, et la suite dépend de ce que fera D (qui est forcé de choisir $t1$) :

- si D reste en $t1$, A choisit $s2$ et va en S , et D perd car il ne peut pas faire de a .
- si D va en $t2$, A choisit $s2$ et reste en $s2$, et D perd car il ne peut pas faire de b .

Il y a une autre stratégie gagnante pour A .

2. $S \sim U$? Oui. Stratégie gagnante universelle pour D :

2.1 au départ de (S, U) , A peut faire

- $S \xrightarrow{a} s1$, alors D fait $U \xrightarrow{a} u1$, ou bien
- $U \xrightarrow{a} u1$, alors D fait $S \xrightarrow{a} s1$.

2.2 au départ de $(s1, u1)$, A peut faire

- $s1 \xrightarrow{b} s2$, alors D fait $u1 \xrightarrow{b} u3$, ou bien
- $u1 \xrightarrow{b} u3$, alors D fait $s1 \xrightarrow{b} s2$.

2.2 au départ de $(s2, u3)$, A peut faire

- $s2 \xrightarrow{b} s2$, alors D fait $u3 \xrightarrow{b} u2$, ou bien
- $u3 \xrightarrow{b} u2$, alors D fait $s2 \xrightarrow{b} s2$, ou bien
- $s2 \xrightarrow{a} S$, alors D fait $u3 \xrightarrow{a} U$, ou bien
- $u3 \xrightarrow{a} U$, alors D fait $s2 \xrightarrow{a} S$. Dans les deux derniers cas on se retrouve à la configuration départ.

Il suffit donc d'étudier la configuration $(s2, u2)$.

2.2 au départ de $(s2, u2)$, D prendra la transition de même étiquette que celle prise par A , et donc soit on reste en $(s2, u2)$, soit on revient à la configuration départ.

Le jeu est infini et D gagne.

3. $S \sim V$? Non. Stratégie gagnante universelle pour A : A choisit S et va en $s1$; D ne peut que aller en $v1$. Ensuite, A choisit $v1$ et fait $v1 \xrightarrow{b} v2$: D doit faire $s1 \xrightarrow{b} s2$. Maintenant, A peut choisir de faire $s2 \xrightarrow{b} s2$, et D est bloqué car pas de b au départ de $v2$.